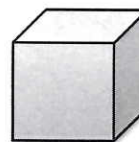
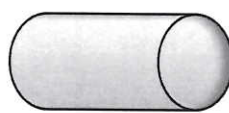



1. K obrázkům těles připoj správný název.



KVÁDR

KRYCHLE

KOULE


JEHLAN

VÁLEC

KUŽEL



obr. 1



obr. 2

2. Jmenuj předměty, které mají tvar:

koule: _____

kvádr: _____

kužele: _____

válce: _____

3. Narýsuj čáru:

KŘIVOU


LOMENOU

PŘÍMOU

4. Vyznač tři body: bod A, bod B, bod C a spoj je.

Který obrazec vznikl? _____

5. Zapiš, které body vidíš na obrázku:



6. Spoj body podle abecedy:

A
+

C
+

E
+

B
+

D
+

F
+

Jaká čára vznikla? _____